

Đề kiểm tra nghiệp vụ đại diện sở hữu công nghiệp (01/2010)

MÔN PHÁP LUẬT **(Thời gian làm bài 180 phút)**

Câu hỏi 1 (3 điểm): Nhà máy Thuốc lá Cửu Long là chủ sở hữu nhãn hiệu thuốc lá “ROMAN” theo Giấy Chứng nhận đăng ký hợp đồng chuyển giao quyền sở hữu đối tượng SHCN số 377/ĐKHĐSH do Cục Sở hữu công nghiệp (nay là Cục Sở hữu trí tuệ) cấp ngày 31/3/2000, được bảo hộ theo Giấy chứng nhận đăng ký nhãn hiệu hàng hóa số 26062, do Cục Sở hữu Công nghiệp cấp ngày 08/01/1998.

Ngày 20/7/2006, Nhà máy thuốc lá Cửu Long đã xuất khẩu một Container thuốc lá mang nhãn hiệu này và bị Hải quan TP. Hồ Chí Minh lập biên bản vì lý do trên nhãn bao bì thuốc lá có sử dụng hình lo go hai con sư tử, trong khi đó, hình lo go hai con sư tử lại không có trong nhãn hiệu đăng ký bảo hộ. Sau khi được giải thích, Nhà máy thuốc lá Cửu Long đã được cơ quan hải quan làm thủ tục thông quan, nhưng với điều kiện đối với những lô hàng sau, Nhà máy thuốc lá Cửu Long cần phải đăng ký bổ sung thêm lo go hình hai con sư tử vào nhãn hiệu thuốc lá của mình thì mới được xuất hàng.

Đề nghị anh (chị) cho biết việc Nhà máy thuốc lá Cửu Long sử dụng nhãn hiệu “ROMAN” cùng với những dấu hiệu khác trên bao bì của hàng hóa (ví dụ: sử dụng hình lo go hai con sư tử) như trên bao bì có vi phạm quy định của pháp luật về nhãn hiệu hay không và có bị coi là hành vi xâm phạm quyền đối với nhãn hiệu của người khác hay không? Với tư cách là người đại diện sở hữu công nghiệp, anh (chị) tư vấn cho Nhà máy thuốc lá Cửu Long như thế nào để bảo đảm hoạt động xuất khẩu thuốc lá của nhà máy, đồng thời phù hợp với quy định của pháp luật về nhãn hiệu?

Câu hỏi 2 (2 điểm):

So sánh thời hạn hiệu lực và các thủ tục duy trì hiệu lực hoặc gia hạn hiệu lực của văn bằng bảo hộ các đối tượng sở hữu công nghiệp.

Câu hỏi 3 (2,5 điểm):

Tình huống

Năm 2009 Công ty X (THAILAN) nộp đơn xin bảo hộ nhãn hiệu "MANLI & Hình" cho dược phẩm (nhóm 05) nhằm để cho Liên doanh ABC sử dụng tại Việt Nam. Tuy nhiên, đơn nêu trên bị từ chối vì bị coi là tương tự với nhãn hiệu

"MANLYX" của một chủ thể khác đã được bảo hộ theo ĐKQT từ năm 2003 chỉ định tại Việt Nam cũng cho sản phẩm thuộc nhóm 05.

Yêu cầu

Bằng lập luận và áp dụng các quy định pháp luật về nhãn hiệu (theo Luật SHTT và các văn bản hướng dẫn) Anh/Chị hãy cho biết các khả năng mà Công ty X có thể vận dụng để nhãn hiệu "MANLI & Hình" được chấp nhận bảo hộ.

Câu hỏi 4 (2,5 điểm): Ông NK sản xuất nước mắm. Thấy mọi người thích các nhãn hiệu Tám Phú, Bốn Phương, Thanh Châu...nên đã mua vỏ chai cũ của các cơ sở này về làm sạch rồi bơm nước mắm của mình vào để đem bán. Thời gian sau ông đặt mua chai mới, in nhãn hàng mới có các dấu hiệu, hình thức hệt như sản phẩm của các cơ sở nêu trên và dán vào các chai nước mắm do mình sản xuất.

Khi giám định chất lượng mắm xác nhận “Sản phẩm không có lạc khuẩn, nồng độ đạm ghi trên nhãn mác đúng với độ đạm được xác định ở nước mắm trong chai”. Cơ sở của ông NK đã sản xuất khoảng 5.000 lít nước mắm, thu lợi nhuận khoảng 3 triệu đồng.

Anh/Chị hãy áp dụng các điều kiện xác định hành vi xâm phạm quyền SHCN theo quy định của Luật SHTT và các văn bản hướng dẫn thi hành vào tình huống trên để phân tích, xác định hành vi của Ông NK (cho phép đặt các giả thiết khi phân tích).

Đề kiểm tra nghiệp vụ đại diện sở hữu công nghiệp (01/2010)

MÔN THÔNG TIN (Thời gian làm bài 180 phút)

Câu hỏi 1 (2 điểm): Anh/Chị hãy cho biết cần sử dụng các loại thông tin sở hữu công nghiệp nào và sử dụng như thế nào để tư vấn cho khách hàng về việc:

- a) đăng ký xác lập quyền đối với một đối tượng sở hữu công nghiệp cụ thể;
- b) tự bảo vệ khi bị cáo buộc xâm phạm quyền sở hữu công nghiệp của người khác.

Câu hỏi 2 (3 điểm): Anh/Chị hãy nêu các bảng phân loại quốc tế dùng trong lĩnh vực sở hữu công nghiệp và trình bày cấu trúc, nguyên tắc phân loại và mục đích sử dụng các bảng phân loại đó?

Câu hỏi 3 (3 điểm): Anh/Chị hãy so sánh các quy định pháp luật hiện hành về công bố đơn đăng ký sáng chế và đơn đăng ký thiết kế bố trí?

Câu hỏi 4 (2 điểm): Anh/Chị hãy cho biết các chỉ số phân loại sau đề cập đến hệ thống điều khiển nào?

- B23Q 35/00 Hệ thống điều khiển
- B23Q 35/02 . chép từng điểm riêng biệt của mô hình
- B23Q 35/06 .. để điều khiển các nguyên công
- B23Q 35/12 ... bằng các phương tiện điện
- B23Q 35/121 bằng cách dò cơ khí
- B23Q 35/122 nhờ các chi tiết nhạy cảm
- B23Q 35/124 thay đổi điện trở thuần

Đề kiểm tra nghiệp vụ đại diện sở hữu công nghiệp (01/2010)

MÔN NHÃN HIỆU – CHỈ DẪN ĐỊA LÝ

(Thời gian làm bài 180 phút)

Câu hỏi 1 (2 điểm): Bằng sự hiểu biết về các yêu cầu của pháp luật hiện hành đối với đơn đăng ký sở hữu công nghiệp nói chung và đơn đăng ký nhãn hiệu nói riêng, Anh/Chị hãy:

a) Chỉ ra những điểm thiếu sót về hình thức và giải pháp khắc phục chúng trong Tờ khai đăng ký nhãn hiệu sau đây (phụ lục 1);

b) Hướng dẫn HỢP TÁC XÃ MÂY TRE ĐAN PHONG PHÚ có trụ sở tại “xã Vân Hòa, huyện Ba Vì, thành phố Hà Nội” chuẩn bị bộ hồ sơ đăng ký nhãn hiệu tập thể “VIHAN và hình khóm tre” cho các sản phẩm “bàn, ghế”.

Câu hỏi 2 (1,5 điểm): Anh/Chị hãy phân nhóm các sản phẩm sau đây theo Bảng Phân loại quốc tế Nice:

Kem đánh răng, kem lạnh để ăn.

Dao dùng trong nhà bếp, nồi cơm điện.

Rau quả đóng hộp, rau quả tươi.

Mỹ phẩm, dược phẩm.

Rượu thuốc, sữa.

Dịch vụ cho thuê nhà; dịch vụ khách sạn.

Câu hỏi 3 (2 điểm): Anh/Chị hãy đánh giá khả năng bảo hộ là nhãn hiệu của các dấu hiệu sau đây (Giả sử các dấu hiệu này không thuộc quy định tại các điểm e, g, h, i, k, l, m, n, khoản 2, điều 74 Luật Sở hữu trí tuệ). Anh/Chị hãy chỉ rõ các thành phần không có khả năng phân biệt (dấu hiệu loại trừ) của chúng và giải thích tại sao?

- a. **Cty cổ phần in bao bì Bình Thuận BIPACO** (in ấn, gia công in bao bì)
- b. **Bánh bao HƯƠNG VỊ GÀ** (bánh bao)
- c. **BESTCARE** (dược phẩm, thực phẩm chức năng dùng trong ngành y)
- d. **Supequality** (ti-vi, đầu DVD, loa)
- e. **VinaRoma** (điều hoà không khí, bếp ga)
- f. **Nước mắm cá cơm Phú Quốc AN PHÚ ĐÔNG** (nước mắm)
- g. **FIFA** (quảng cáo)
- h. **BGMHCK** (xe máy)

Cán bộ coi thi không giải thích gì thêm.

Câu hỏi 4 (2,5 điểm): Anh/Chị hãy đánh giá về khả năng phân biệt của các dấu hiệu sau đây với các nhãn hiệu thuộc sở hữu của chủ thể khác đang được bảo hộ, nêu căn cứ pháp lý:

Dấu hiệu xin đăng ký	Nhãn hiệu đang được bảo hộ
“Thiên Hương” nhóm 30: Kem ăn (lạnh)	“Thiên Hương” nhóm 30: Tương ớt
“Tân Châu” nhóm 12: Săm lốp xe đạp	“Tân Á Châu” nhóm 12: Săm lốp xe đạp
“Alpha derm” nhóm 03: Mỹ phẩm	“Alpha skin” nhóm 03: Mỹ phẩm
“Paracetamol LEV” nhóm 05: Dược phẩm	“Paracetamol VEL” nhóm 05: Dược phẩm

Câu hỏi 5 (2 điểm):

Huyện Đắk Mil thuộc tỉnh Đắk Nông trước giải phóng có tên gọi là quận Đức Lập thuộc tỉnh Quảng Đức, ngày nay Đức Lập không còn là tên của đơn vị hành chính, có điều kiện tự nhiên phù hợp đối với cây Cà phê. Cà phê được trồng tại khu vực này từ những năm 30 của thế kỷ trước cho đến ngày nay. Cà phê mang tên Đức Lập (Cà phê Đức Lập) từ lâu đã được người tiêu dùng đánh giá cao và hiện nay đã được xuất khẩu sang các thị trường Châu Âu, Châu Mỹ, Nhật Bản, Trung Quốc... Nhờ có điều kiện địa lý đặc thù của huyện Đắk Mil như: Thổ nhưỡng, địa hình, khí hậu, thủy văn... và kinh nghiệm canh tác của người sản xuất (hơn nửa thế kỷ) mà cà phê Đức Lập có màu sắc, mùi vị, độ hòa tan, hàm lượng cafein và một số tiêu chuẩn khác khác biệt so với cà phê của các vùng khác. Những người trồng và kinh doanh cà phê Đức Lập và UBND tỉnh Đắk Nông muốn bảo hộ danh tiếng của cà phê Đức Lập. (Đề bài chỉ mang tính giả định).

Anh/Chị hãy tư vấn các hình thức bảo hộ sở hữu công nghiệp thích hợp đối với sản phẩm cà phê Đức Lập.

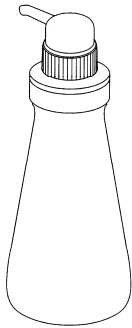
Đề kiểm tra nghiệp vụ đại diện sở hữu công nghiệp (01/2010)

MÔN KIỂU DÁNG CÔNG NGHIỆP

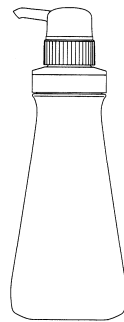
(Thời gian làm bài 180 phút)

Câu hỏi 1 (2,5 điểm): Cho những hình vẽ kiểu dáng công nghiệp dưới đây, biết rằng H.1 là hình vẽ phối cảnh và H.2 là hình chuẩn thể hiện hình chiếu từ phía trước của kiểu dáng công nghiệp.

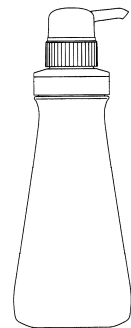
Anh/Chị cần tiến hành đăng ký kiểu dáng công nghiệp “Chai” sao cho không gặp phải thiếu sót nào về hình thức theo quy định hiện hành. Bằng lời văn, hãy chỉ ra những thiếu sót của bộ bản vẽ và nếu có thì nêu cách thức khắc phục những thiếu sót đó.



H.1 (phối cảnh)



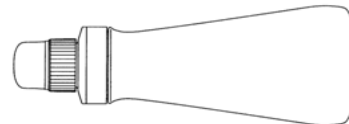
H.2 (trước)



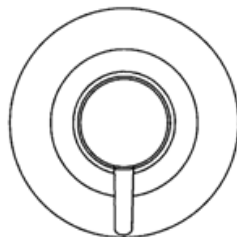
H.3



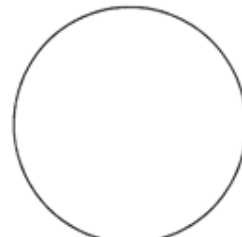
H.4



H.5



H.6



H.7

Câu hỏi 2 (4 điểm): Với những hình vẽ kiểu dáng công nghiệp trên đây sau khi đã khắc phục những thiếu sót (nếu có), Anh/Chị hãy viết Bản mô tả kiểu dáng công nghiệp để đăng ký kiểu dáng công nghiệp “Chai” theo quy định hiện hành.

Câu hỏi 3 (1,5 điểm): Với đối tượng đăng ký là kiểu dáng công nghiệp nêu trên, Anh/Chị hãy liệt kê và tính các khoản phí và lệ phí cần và đủ theo quy định hiện hành để nộp đơn đăng ký kiểu dáng công nghiệp.

Câu hỏi 4 (2 điểm): Theo Thông báo kết quả thẩm định nội dung của một đơn đăng ký kiểu dáng công nghiệp, kiểu dáng công nghiệp theo hai phương án nêu trong đơn được kết luận là khác biệt đáng kể với nhau.

Với tư cách là người đại diện sở hữu công nghiệp trực tiếp xử lý đơn, Anh/Chị sẽ thực hiện những gì trong lần phúc đáp đầu tiên để các phương án trong đơn nêu trên được tiếp tục xử lý mà không gặp phải thiếu sót?

Đề kiểm tra nghiệp vụ đại diện sở hữu công nghiệp (01/2010)

MÔN SÁNG CHẾ (Thời gian làm bài 180 phút)

Câu hỏi 1 (1 điểm): Anh/Chị hãy cho biết sự giống nhau và khác nhau về điều kiện bảo hộ sáng chế và thiết kế bố trí.

Câu hỏi 2 (2 điểm): Một khách hàng Nhật Bản đã nộp một đơn PCT ngày 09/10/2009, yêu cầu hưởng quyền ưu tiên trên cơ sở đơn đầu tiên nộp tại Nhật Bản ngày 10/10/2008 và có chỉ định Việt Nam. Khách hàng này mới nhận được Báo cáo tra cứu quốc tế kèm theo đánh giá sơ bộ về khả năng bảo hộ cho đơn PCT nêu trên, theo đó đối tượng nêu trong đơn được đánh giá là đáp ứng các tiêu chuẩn bảo hộ. Ngày 10.01.2010, khách hàng này liên hệ với bạn và cung cấp thông tin chi tiết về một sản phẩm của một nhà sản xuất khác, sản phẩm này gần như giống hệt với đối tượng nêu trong đơn PCT nêu trên. Khách hàng yêu cầu bạn tiến hành các thủ tục cần thiết để có thể nhận được văn bằng bảo hộ tại Việt Nam trong thời gian sớm nhất. Anh/Chị hãy tư vấn cho khách hàng về các thủ tục đăng ký, các tài liệu cần cung cấp, các loại phí và lệ phí phải nộp trong giai đoạn quốc gia Việt Nam đối với đơn PCT nêu trên.

Câu hỏi 3 (3 điểm): Anh/Chị hãy lập yêu cầu bảo hộ thể hiện tất cả các đối tượng và phương án có thể có của sáng chế như nêu dưới đây, đồng thời thể hiện tên sáng chế và bản tóm tắt sáng chế phù hợp với yêu cầu bảo hộ đã được lập:

- Sáng chế đề xuất hợp chất A có hoạt tính làm mềm vải có công thức cấu tạo $X-Y-CH_3$. Hợp chất này là mới, sáng tạo và có khả năng áp dụng công nghiệp.

- Theo phương án được ưu tiên, nhóm X là X_1 hoặc X_2 , tốt hơn nữa nếu X là X_1 . Theo một phương án được ưu tiên khác, Y là Y_1 . Theo phương án được ưu tiên nhất, hợp chất theo sáng chế có công thức cấu tạo: $X_1-Y_1-CH_3$.

- Phần mô tả đã được lập cho sáng chế nêu trên cũng bộc lộ quy trình điều chế hợp chất A như nêu trên, bao gồm bước cho X- phản ứng với $-Y-CH_3$ trong môi trường chân không ở nhiệt độ nằm trong khoảng từ $40^\circ C$ đến $70^\circ C$. Tốt hơn, nếu phản ứng này được thực hiện ở nhiệt độ nằm trong khoảng từ $45^\circ C$ đến $60^\circ C$. Ngoài ra, phần mô tả sáng chế còn bộc lộ chế phẩm làm mềm vải chứa hợp chất A và chất độn.

Câu hỏi 4 (2 điểm): Anh/Chị hãy phân tích và đưa ra kết luận về tính thống nhất của đơn đăng ký sáng chế có yêu cầu bảo hộ như nêu dưới đây, trên cơ sở đó đưa ra ý kiến tư vấn thích hợp cho chủ đơn về việc tách đơn sao cho các đơn sau khi tách ra bảo đảm tính thống nhất:

Yêu cầu bảo hộ

1. Quy trình chiết sản phẩm A ra khỏi thực vật X, trong đó quy trình này bao gồm các bước:
 - (i) ngâm thực vật X trong dung môi kết hợp khuấy trộn ở nhiệt độ nằm trong khoảng từ 35°C đến 50°C trong thời gian tối đa là 48 giờ;
 - (ii) thu hồi sản phẩm A ra khỏi dịch ngâm thu được ở bước (i) bằng cách chưng cất phân đoạn trong môi trường chân không.
 2. Quy trình theo điểm 1, trong đó nhiệt độ nêu ở bước (i) nằm trong khoảng từ 40°C đến 45°C.
 3. Quy trình theo điểm 1 hoặc 2, trong đó thời gian ngâm nêu ở bước (i) nằm trong khoảng từ 24 đến 36 giờ.
 4. Sản phẩm A thu được bằng quy trình theo điểm bất kỳ trong số các điểm từ 1 đến 3.
 5. Quy trình chiết sản phẩm B ra khỏi thực vật Y, trong đó quy trình này bao gồm các bước:
 - (i) ngâm thực vật Y trong dung môi kết hợp khuấy trộn ở nhiệt độ nằm trong khoảng từ 30°C đến 60°C trong thời gian tối đa là 40 giờ;
 - (ii) thu hồi sản phẩm B ra khỏi dịch ngâm thu được ở bước (i) bằng cách chưng cất phân đoạn trong môi trường chân không.
 6. Sản phẩm B thu được bằng quy trình theo điểm 5.
- với các lưu ý như sau:
- sản phẩm A và sản phẩm B là hoàn toàn khác nhau;
 - sản phẩm A và sản phẩm B lần lượt theo các điểm 4 và 6 yêu cầu bảo hộ nêu trên là mới, sáng tạo và có khả năng áp dụng công nghiệp.

Câu hỏi 5 (2 điểm): Anh/Chị hãy phân tích và đưa ra kết luận về tính mới cho đối tượng nêu trong từng điểm yêu cầu bảo hộ dưới đây của đơn đăng ký sáng chế số 1-2006-03120, nộp ngày 25.12.2006 (không yêu cầu hưởng quyền ưu tiên):

Yêu cầu bảo hộ

1. Hợp chất có công thức $X-CH_3$, trong đó X là A, B hoặc C.
2. Hợp chất theo điểm 1, trong đó X là B.

Cán bộ coi thi không giải thích gì thêm.

3. Hợp chất theo điểm 1, trong đó X là C.

4. Thuốc diệt nấm mốc chứa hợp chất theo điểm 3.

với các lưu ý như sau:

(i) các nhóm A, B và C là khác nhau

(ii) tài liệu tra cứu được về tình trạng kỹ thuật của sáng chế là như sau: Tài liệu D1 (công bố ngày 05.12.2005) đã bộc lộ hợp chất có công thức X-CH₃, trong đó X là A, và thuốc diệt nấm mốc chứa hợp chất này.